

ВСЕРОССИЙСКАЯ ОЛИМПИАДА ШКОЛЬНИКОВ 2023/2024 гг.
ШКОЛЬНЫЙ ЭТАП

ИСТОРИЯ
7 КЛАСС

10. Прочитайте внимательно отрывок из истории города Омска и ответьте на вопросы. (По 2 балла за каждый правильный ответ. Максимальный балл за задание – 8).

«История Омска началась с возведения Первой омской крепости на левом берегу реки Оми. Поводом этому послужил указ Петра I, по которому вглубь Сибири была снаряжена экспедиция».

10.1. Назовите _____ полную _____ дату _____ этого
указа. 22.05.1714.

10.2. Кто _____ возглавил _____ эту
экспедицию? Бухгольц

10.3. Какова _____ была _____ причина _____ отправки _____ этой
экспедиции? Омск был крепостью
защищавший южные границы государства.

10.4. Какую _____ площадь _____ занимала _____ Первая _____ омская
крепость? 60000 м²

65

ИСТОРИЯ
7 КЛАСС

Ответ: Завоевать территорию Чалты-Кевача

100

7. Прочитайте внимательно текст и найдите ошибки. Ответ запишите в таблицу (обратите внимание, что цифр в таблице может быть больше количества ошибок в тексте). (По 1 баллу за каждую правильно указанную ошибку. Максимальный балл за задание -11)

«В 1068 году печенеги совершили крупный поход на Русь. Навстречу им вышли войска трех русских князей – Рюриковичей. Битва с печенегами на реке Калке закончилась разгромом русской рати. Но когда Ярослав с остатками дружины вернулся в Новгород, народ собрался на вече и решил продолжать войну. Для новгородцев победа кочевников означала не просто военное разорение, но и невозможность продолжать выгодную торговлю с Польшей, поскольку печенеги перекрывали путь по Неве на юг. Ярослав отказался подчиниться постановлению веча, мотивируя свой отказ усталостью дружины». **Ответ:**


1	
2	
3	
4	
5	
6	
7	
8	
9	
10	
11	
12	

8. Посмотрите на изображения знаменитых памятников архитектуры. Укажите название (2 балла), время создания (1 балл) и место расположения (1 балл) каждого памятника. Ответ запишите в таблицу. (Максимальный балл за задание – 20).

05'

ИСТОРИЯ

7 КЛАСС



1



5

4

Ответ:

№ п/п	Название	Время создания	Место расположения
1	Золотые Ворота 2	1019-1026г.	Киев
2	Башня Тедимица	1419-1422	Литва 4
3	Софийский собор	1037-1341 15.	Киев
4	Даниловский Монастырь	1282г.	Москва 1
5	Церковь Стаса пророка 2	1915-1918	Москва 10 б.

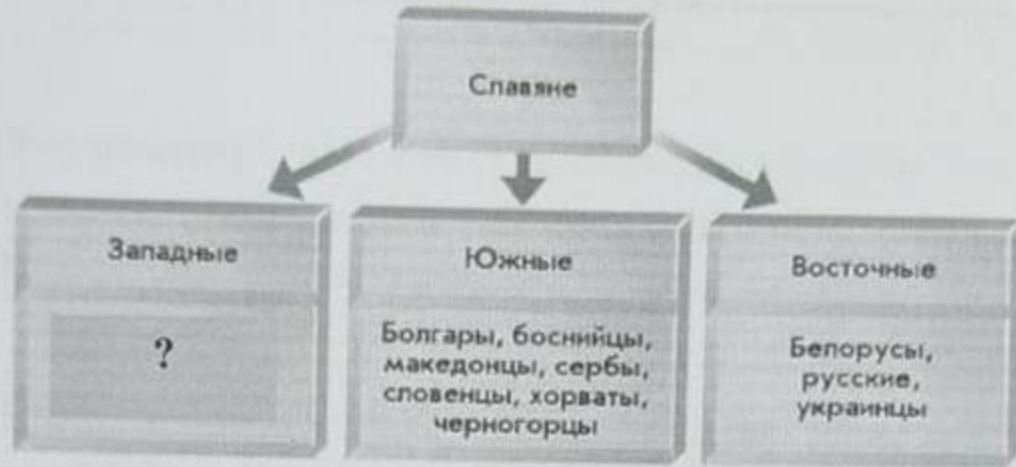
9. Вставьте пропущенные буквы в слова. (По 1 баллу за каждую правильно вставленную букву. Максимальный балл за задание – 10).

1. Публицистика 2
2. Энциклопедия 2
3. Закономара 2
4. Чловобитная 2
5. Центрилизованное 2

10 б.
6

ИСТОРИЯ
7 КЛАСС

5. Заполните схему. (По 1 баллу за каждый верно указанный ответ. Максимальный балл за задание – 3).

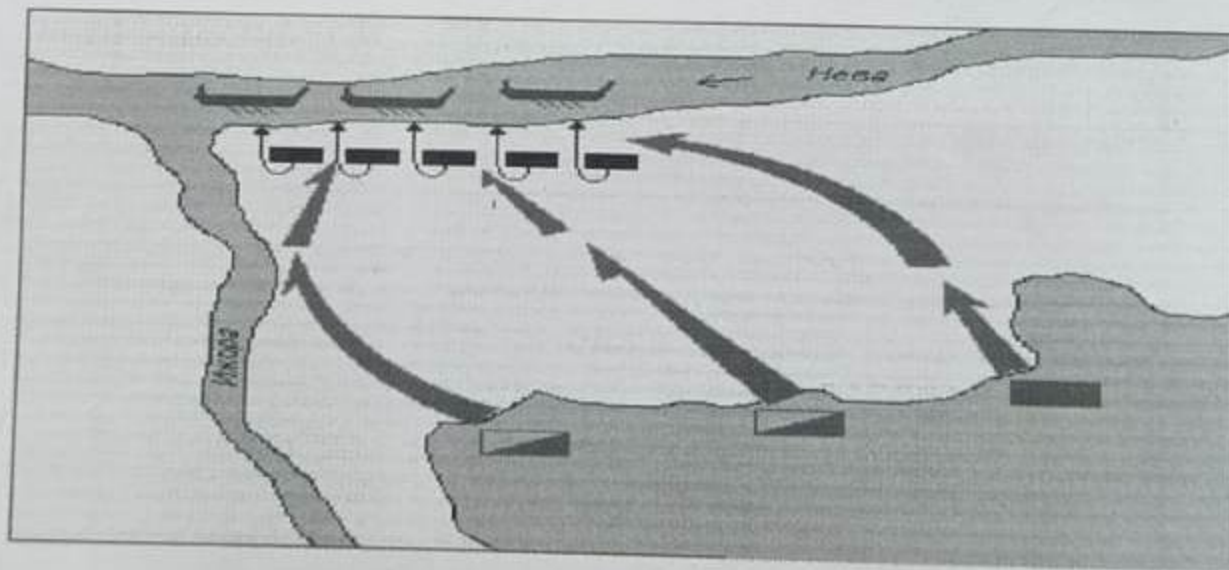


Ответ:

Польша, Силезия, словаки, чехи, словаки

3 б

6. Рассмотрите внимательно схему и ответьте на вопросы. (По 2 балла за каждый правильный ответ. Максимальный балл за задание – 12)



6.1. О каком событии идет речь во фрагменте на схеме?

Ответ: Невская битва

6.2. Когда произошло это событие? (Укажите точную дату)

Ответ: 15.07.1240.

6.3. Кто командовал русским войском?

Ответ: Александр Невский

6.4. С кем сражались русские войска в этой битве?

Ответ: Шведские войска

6.5. Назовите командующего вражеским войском.

Ответ: Гурлер

6.6. Какова была главная цель вражеской стороны?

ИСТОРИЯ
7 КЛАСС

2) Михаилом Ярославичем Тверским 4) Дмитрием Донским 1.8. Когда после нашествия Батыя возобновилось каменное строительство в русских городах?

- 1) В конце XIII века 3) Во второй половине XIV века
2) В начале XIV века 4) В конце XV века

1.9. В состав какого государства в начале XV века входили Черниговское, ТуровоПинское и Смоленское княжества?

- 1) Московского княжества 2) Монгольской империи
3) Киевского княжества 4) Великого Литовского княжества

1.10. В каком году произошла битва на реке Ведроши?

- 1) 1480 г. 3) 1505 г.
2) 1500 г. 4) 1510 г. **Ответ:**

1.1	1.2	1.3	1.4	1.5	1.6	1.7	1.8	1.9	1.10
2	1	2	3	1	4	3	1	4	3

1 0 0 1 0 0 0 1 1 0 45

2. Что с исторической точки зрения объединяет перечисленные в ряду элементы? Дайте максимально точный ответ.

(По 2 балла за каждый верный ответ. Максимальный балл за задание – 6)

2.1. Канон, устав, автокефальность, догмат.

2.2. Губа, кормления, стрельцы, местничество.

2.3. Пожилое, тягло, заповедные лета, судебники. **Ответ:**

2.1. Византизм 20

2.2. Ведроши 20

2.3. Земли, выкупы 10

45

3. Расположите события в хронологической последовательности. Ответы внесите в таблицу. (10 баллов за полностью верную последовательность, 7 баллов за последовательность с одной ошибкой, 3 балла, если допущено две ошибки, 0 баллов, если допущено более двух ошибок. Максимальный балл за задание – 10).

- | | |
|--|--|
| А) Кривская уния; | Е) Окончание опричнины; |
| Б) Разорение Рязани Батыем; | Ж) Указ «Об урочных летах»; |
| В) Грюнвальдская битва; | З) Восстание под руководством У.Тайлера; |
| Г) Битва на реке Воже; | И) Куликовская битва; |
| Д) Взятие крестоносцами Константинополя; | К) Создание «Русской правды». |

Ответ:

ИСТОРИЯ
7 КЛАСС

Шифр участника 5-4

Задания для обучающихся

Время выполнения заданий □ 60 минут
Максимальное количество баллов – 100.

1. Выберите правильный ответ. Ответы внесите в таблицу.

(По 1 баллу за каждый верный ответ. Максимальный балл за задание – 10).

1.1. Отметьте реки, вдоль которых расселялись племена древних славян

- | | |
|-------------------------|-----------------|
| 1) Висла, Одер | 3) Вятка, Белая |
| <u>2) Волхов, Днепр</u> | 4) Сава, Морава |

1.2. В каком городе найдены древнейшие следы пребывания норманнов? 1)

- | | |
|----------|--------------|
| Новгород | 3) Ладога |
| 2) Киев | 4) Ярославль |

1.3. О походе какого князя летописец рассказывал, что князь вытащил корабли на сушу и приказал поставить их на колеса, так что суда сами покатались к стенам Константинополя?

- | | |
|---------------|----------|
| 1) Аскольд | 3) Олег |
| <u>2) Дир</u> | 4) Игорь |

1.4. Кто из перечисленных историков писал о Ярославе Мудром: «Время Ярослава ознаменовалось распространением христианской религии по всем русским землям. Тогда уже выросло поколение тех детей, которых Владимир отдавал в книжное учение. Ярослав в этом отношении продолжал дело своего отца...»

- | | |
|-------------------|--------------------------|
| 1) С.М.Соловьев | <u>3) Н.И.Костомаров</u> |
| 2) В.О.Ключевский | 4) Б.И.Рыбаков |

1.5. Кто из князей воевал на стороне половцев в военном походе 1093 г.?

- | | |
|------------------------------|--------------------------|
| <u>1) Всеволод Ярославич</u> | 3) Олег Святославич |
| 2) Святополк Изяславич | 4) Владимир Всеволодович |

1.6. Финские племена, которые жили на берегу Финского залива в XII веке, в основном платили дань

- | | |
|--------------------------|------------------------------------|
| 1) Шведскому королевству | 3) Золотой орде |
| 2) Великому Новгороду | <u>4) Французскому государству</u> |

1.7. Московский князь Юрий Данилович вступил в конфликт по поводу ярлыка на великое княжение владимирское с князем

- | | |
|------------------------|--------------------------|
| 1) Александром Невским | <u>3) Иваном Калитой</u> |
|------------------------|--------------------------|

К	Д	Б	З	Г	Ч	А	В	Е	Ж
---	---	---	---	---	---	---	---	---	---

35

4. Назовите авторов документов, отрывки из которых представлены ниже.
(По 2 балла за каждый верный ответ. Максимальный балл за задание – 10).

4.1. «Старых чтите, как отца, а молодых, как братьев... На войну выйдя, не ленитесь, не полагайтесь на воевод; ни питью, ни еде не предавайтесь, ни спанью; сторожей сами наряживайте, и ночью расставив стражей со всех сторон, около воинств ложитесь, а вставайте рано...»

4.2. «Все эти племена имели свои обычаи, и законы своих отцов, и предания, и каждые – свой нрав. Поляне имеют обычай отцов своих кроткий и тихий, стыдливы перед снохами своими и сестрами, матерями и родителями; перед свекровями и деверями великую стыдливость имеют; имеют и брачный обычай: не идет зять за невестой, но приводит ее накануне, а на следующий день приносят за нее – что дают».

4.3. «Заря осветила небо, ясное, чистое. Казанцы стояли на стенах; россияне перед ними, под защитой укреплений, по сению знамен, в тишине, неподвижно; звучали только бубны и трубы, неприятельские и наши; ни стрелы не летали, ни пушки не гремели».

4.4. «Ты же ради тела погубил душу, презрел нетленную славу ради быстротекущей и, на человека разъярившись, против Бога восстал. Пойми же, несчастный, с какой высоты в какую пропасть ты низвергся душой и телом!... ты бежал не от смерти, а ради славы в той кратковременной и скоротекущей жизни и богатства ради...».

4.5. «Собирающий злато и серебро, и уповающий на него, обнаруживает сим свое неверие в ту истину, что Бог печется о нем, сказали Отцы... Не токмо, говорит преподобный, надлежит нам остерегаться пристрастия к злату, и серебру, и к имуществу, но и ко всякой вещи, сверх необходимой потребности...».

Ответ:

4.1. Владимир Мономах

4.2. Нестор

4.3. Карайузи

4.4. Иван Грозный

4. 5. Сергий

10 б.

ТИТУЛЬНЫЙ ЛИСТ

Всероссийская олимпиада школьников

Школьный этап

Заполняется ПЕЧАТНЫМИ БУКВАМИ чернилами черного или синего цвета по образцам:

А	Б	В	Г	Д	Е	Ж	З	И	К	Л	М	Н	О	П	Р	С	Т	У	Ф	Х	Ц	Ч	Ш	Щ	Ъ	Ы	Ь	Э	Ю	Я	@	8	9	,
А	В	С	Д	Е	Г	Ж	З	И	К	Л	М	Н	О	П	Р	С	Т	У	Ф	Х	Ц	Ч	Ш	Щ	Ъ	Ы	Ь	Э	Ю	Я	@	8	9	,

ПРЕДМЕТ

ИСТОРИЯ

КЛАСС

7Б

ДАТА

03.10.2023

ШИФР УЧАСТНИКА

Б - 4

ФАМИЛИЯ

ЛЮТИКОВА

ИМЯ

АЛЕКСАНДРА

ОТЧЕСТВО

ВЯЧЕСЛАВОВНА

Дата рождения

11.06.2010

Муниципалитет

ОМСК БОУГ-Омска, СОШ №108

Сокращенное наименование образовательной организации (школы)

БОУГ-Омска, СОШ №108

Сведения о педагогах-наставниках

1. Фамилия

ХАРЛАМОВА

Имя

ЕЛЕНА

Отчество

АЛЕКСЕЕВНА

Сокращенное наименование образовательной организации (школы)

БОУГ-Омска, СОШ №108

2. Фамилия

Имя

Отчество

Сокращенное наименование образовательной организации (школы)

Личная подпись участника

ЛЮТИКОВА

Все поля обязательны к заполнению!