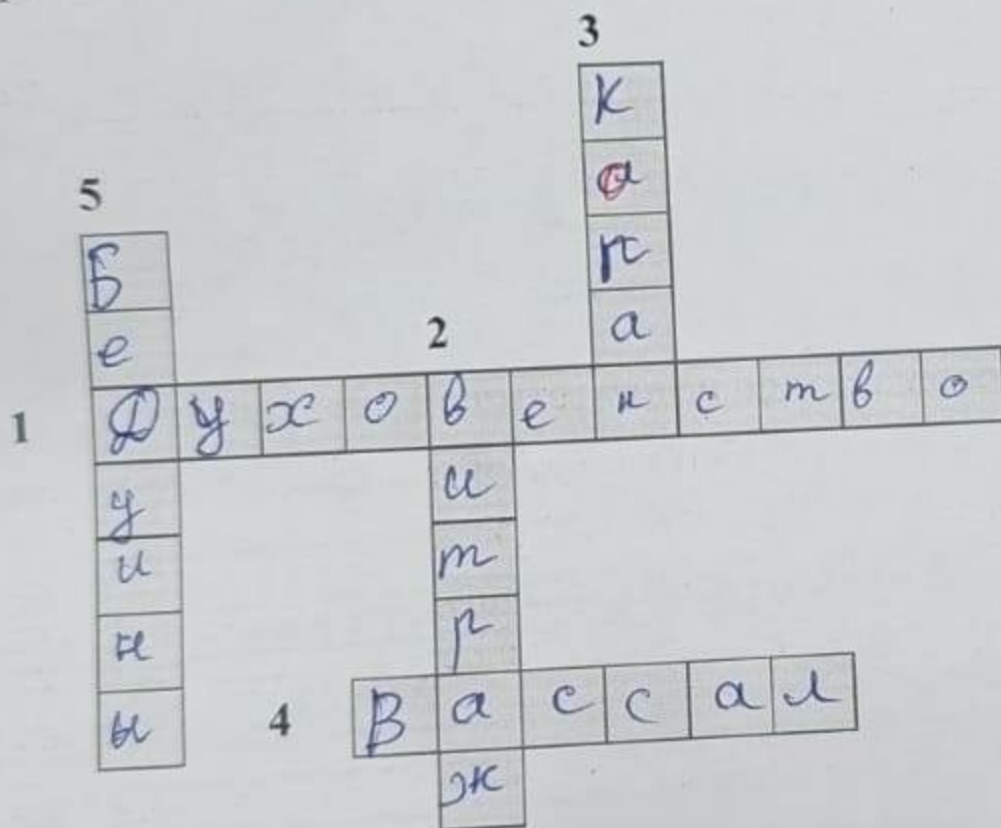


9.2.

Задание 10. Решите кроссворд. За каждый правильный ответ – 2 балла, максимальный балл за задание – 10б.

По горизонтали: 1. Общее название всех служителей церкви, составляющих привилегированное первое сословие средневекового общества 4. Феодал, получивший от более крупного феодала земельное владение (феод) за несение службы и давший клятву

По вертикали: 2. Орнамент или рисунок из цветного стекла, обычно помещавшихся в окнах храмах или дворцов 3. Главная священная книга мусульман 5. Кочевые арабыскотоводы Передней Азии и Северной Африки



10б.

ИСТОРИЯ 6
КЛАСС



- А. Аристократия
- Б. Рыцарь
- В. Король
- Г. Герцог
- Д. Граф

- Е. Барон
- Ж. Виконт
- З. Феодалов
- И. Феодальная лестница
- К. Крестьяне

185

Ответ:

1	2	3	4	5	6	7	8	9
В	Г	Д	Е	Ж	Б	К	З	И

Задание 9. Рассмотрите фотографию, и ответьте на вопросы. За каждый правильный ответ – 5 баллов, максимальный балл за задание – 10 б.

В городе Омске на улице Масленникова, д.5 установлен памятник, рассмотрите фотографию и запишите ответы в бланк ответов:

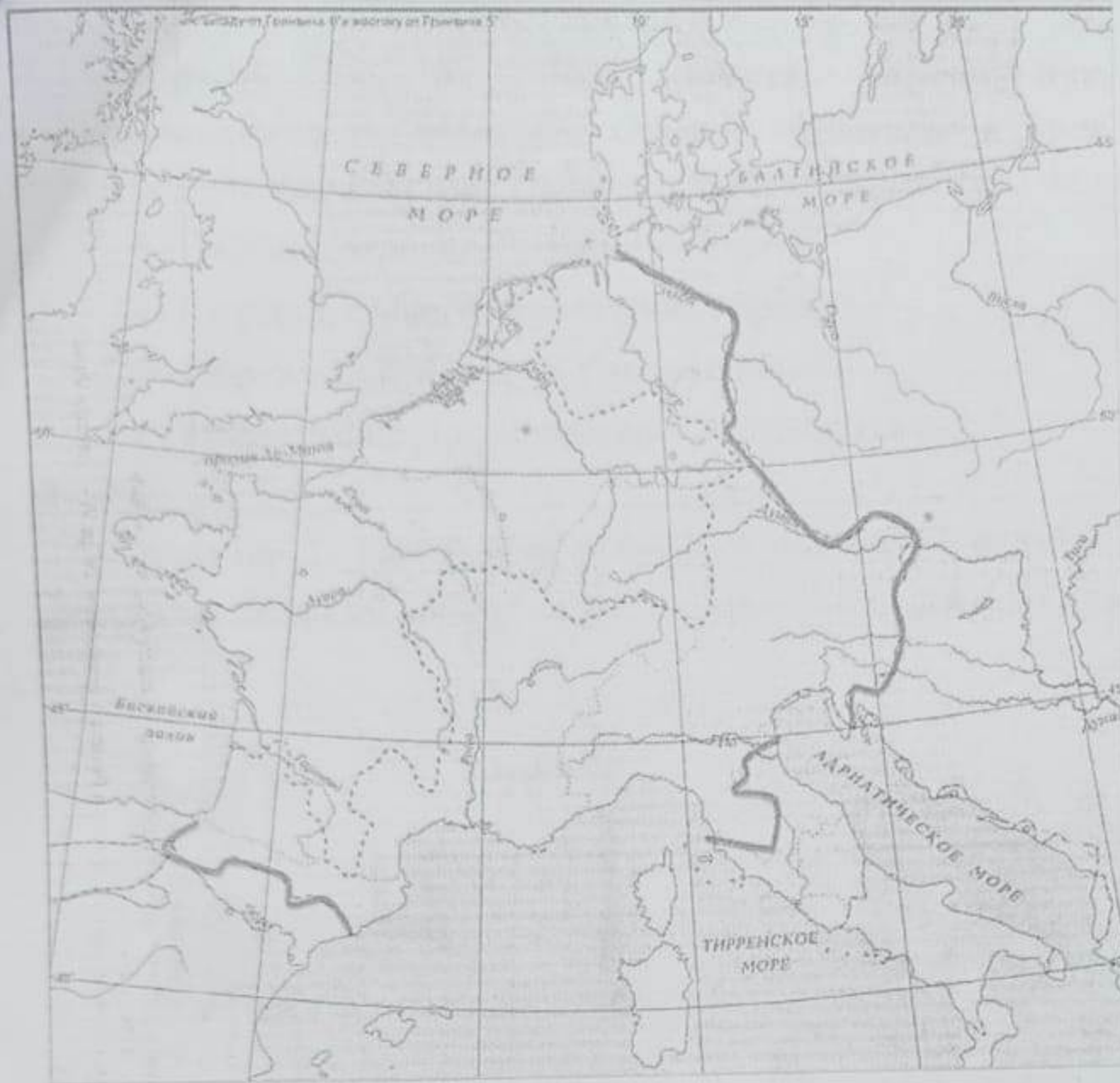
9.1. Кому установлен данный памятник?

9.2. Почему именно в нашем городе установлен данный памятник?

Ответ:

9. 1. _____

05

ИСТОРИЯ 6
КЛАСС

Задание 5. Установи соответствие между историческим деятелем и род его деятельности. За каждый правильный ответ – 2 балла, максимальный балл за задание – 10б.

5.1.	Ибн Сина (Авиценна)	А	Византийский император, предпринявший попытку восстановить Римскую империю в прежних границах
5.2.	Юстиниан	Б	Франкский вождь, создавший государство франков и составивший первый сборник законов
5.3.	Ашшурбанапал	В	Основатель новой религии - ислам
5.4.	Хлодвиг	Г	Арабский ученый, прославившийся как врач, описавший признаки многих болезней, которых до него не умели различать
5.5.	Мухаммед	Д	Ассирийский царь, повелевший собрать в своем дворце большую библиотеку

Ответ:

5.1	5.2	5.3	5.4	5.5
Г	А	Д	Б	В

10б.


ИСТОРИЯ 6
КЛАСС

Задание 6. Восстановите правильную хронологическую последовательность событий. Ответ запишите в виде последовательности номеров событий в бланке ответов. Максимальный балл за задание – 3б.

- А) Падение Западно-Римской империи
- Б) Начало Великого переселения народов
- В) Образование империи Карла Великого
- Г) Образование Древнерусского государства

Ответ: а, б, в, г 3б

Задание 7. Разгадайте ребусы, и запишите ответы в бланке ответов. За каждый правильный ответ – 5 баллов, максимальный балл за задание – 10 б.



Ответ: А) рыцарь Б) король 10б

Задание 8. Прочитайте текст и вставьте пропущенные слова. За каждый правильный ответ – 2 балла, максимальный балл за задание – 18б.

Главой всех феодалов страны считался (1) В, он был сеньором для высшей знати (2) Г, (3) А. В их владениях обычно насчитывалось сотни деревень, они распоряжались большими отрядами воинов. Ниже стояли (4) е, (5) ж обычно они владели двумя-тремя десятками деревень и могли выставить отряд воинов. Они были сеньорами (6) Б, у которых подчас уже не было своих вассалов, а были только зависимые (7) к. Такую организацию (8) з историки называют (9) и.



**ВСЕРОССИЙСКАЯ ОЛИМПИАДА ШКОЛЬНИКОВ 2023/2024 гг.
ШКОЛЬНЫЙ ЭТАП**

410

ИСТОРИЯ 6
КЛАСС

Шифр участника A2

Задания для обучающихся

Время выполнения заданий 45 минут

Максимальное количество баллов – 100 баллов

Задание 1. Установите ложность или правильность данных утверждений. («Да» - «Нет»). За каждый правильный ответ – 2 балла, максимальный балл за задание – 10 баллов.

№	Утверждение	Да/нет
1	Верно ли, что Вергилий, Гораций и Сократ великие римские поэты?	нет 2
2	Верно ли, что император Римской империи Нерон читал в театре свои стихи, выступал в ролях героев греческих трагедий?	да 2
3	Верно ли, что крупнейшее восстание рабов в I в. до н.э. возглавил Спартак?	да 2
4	Верно ли, что римские власти дружелюбно относились к первым христианам	нет 2
5	Верно ли, что современное слово «вандализм» происходит от названия племени вандалы	да 2

100

Задание 2. Тестовые задания. За каждый правильный ответ – 2 балла, максимальный балл за задание – 10 баллов.

2.1. Когда прекратила существование Западно-Римская империя, что означает окончание истории Древнего мира и начало эпохи Средневековья?

- А) 410 г.
- Б) 476 г.
- В) 575 г.
- Г) 395 г.

2.2. Какое из перечисленных племен не относилось к германским племенам, в период Великого переселения народов?

- А) Вандалы
- Б) Гунны
- В) Вестготы
- Г) Франки

2.3. Победе франков над арабами способствовала военная реформа Карла Мартелла. В чём суть этой военной реформы?

- А) стал использовать, более прочное, железное оружие, вместо бронзового
- Б) создал народное ополчение, состоящее из лучников
- В) создал конное войско и жаловал им участки земли с живущими на них зависимыми крестьянами

ТИТУЛЬНЫЙ ЛИСТ

Всероссийская олимпиада школьников

Школьный этап

Заполняется ПЕЧАТНЫМИ БУКВАМИ чернилами черного или синего цвета по образцам:

А	Б	В	Г	Д	Е	Ж	З	И	К	Л	М	Н	О	П	Р	С	Т	У	Ф	Х	Ц	Ч	Ш	Щ	Ъ	Ы	Ь	Э	Ю	Я	@	8	9	,
A	B	C	D	E	F	G	H	I	J	K	L	M	N	O	P	Q	R	S	T	U	V	W	X	Y	Z	1	2	3	4	5	6	7	0	.

ПРЕДМЕТ ИСТОРИЯ КЛАСС 6А

ДАТА 03 . 10 . 2023

ШИФР УЧАСТНИКА

А 2

ФАМИЛИЯ БОГОВИК
ИМЯ ЯРОСЛАВ
ОТЧЕСТВО АЛЕКСЕЕВИЧ

Дата рождения 09 . 12 . 2010

Муниципалитет Омск

Сокращенное наименование образовательной организации (школы)
БОУ г. Омска „СОШ №108“

Сведения о педагогах-наставниках

1. Фамилия Харламова
Имя Елена
Отчество Алексеевна

Сокращенное наименование образовательной организации (школы)
БОУ г. Омска „СОШ №108“

2. Фамилия
Имя
Отчество

Сокращенное наименование образовательной организации (школы)

Личная подпись участника

Все поля обязательны к заполнению!

Г) впервые применил боевой строй – «Клин»

2.4. Какое из нижеперечисленных сословий не относилось к благородным в эпоху Средневековья?

- А) рыцари
Б) герцоги

- В) бароны
Г) крестьяне

2.5. Как называлась особая папская грамота о прощении грехов?

- А) рескрипт
Б) булла

- В) индульгенция
Г) анналы

Ответ:

2.1	2.2	2.3	2.4	2.5
	В	Г	Г	В

0

0

0

2

2

45

Задание 3. По какому принципу образованы ряды? За каждый правильный

ответ – 2 балла, максимальный балл за задание – 10 баллов.

3.1. герцог – барон – рыцарь От самого знатного до не знатного

3.2. епископ – аббат – священник _____

3.3. барщина – натуральный оброк – денежный оброк _____

3.4. Пипин Короткий – Карл Великий – Людовик I _____

3.5. грамматика – риторика – диалектика _____

05

Задание 4. Работа с контурной картой. Рассмотрите контурную карту Франкского государства и выполните задания. За каждый правильный ответ – 3 балла, максимальный балл за задание – 9 баллов.

4.1. При каком правителе, Франкское государство достигло границ обозначенных на карте? При Карле Великом 35

4.2. В каком году произошел распад Франкской империи, границы которой обозначены на карте? в 843 г. 35

4.3. Назовите 3 государства, образовавшихся на территории распавшейся Франкской империи. Среднее, Западно-Франкское, Восточно-Франкское

68