

Шифр участника _____

Задания для обучающихся

Время выполнения заданий - 45 минут

Максимальное количество баллов – 100 баллов

Задание 1. Какой материк считается прародиной человечества? В бланк ответов запишите букву, под которой он указан. *Максимальный балл за задание – 4.*

- А) Евразия
- Б) Америка
- В) Африка
- Г) Австралия

Ответ: _____

Задание 2. По какому принципу образованы ряды? *Максимальный балл за задание – 15.*

1. Шерстистый носорог, мамонт, пещерный медведь

2. Земледелие, скотоводство, ремесло

3. Духи, идолы, молитвы

4. Анубис, Осирис, Гор _____

5. Шамаш, Иштар, Эа _____

Задание 3. *Максимальный балл за задание- 6.*

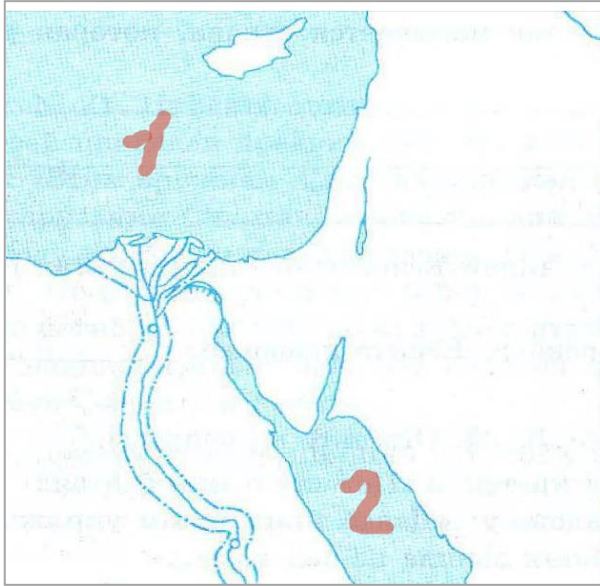
На контурной карте Египта:

1. Напишите названия морей, омывающих Египет, обозначенных цифрами на карте _____

2. Напишите название главной реки Египта _____

3. Напишите, как называется материк, на котором расположен Египет

ИСТОРИЯ
5 КЛАСС



Задание 4. Установи соответствие между понятиями и их определениями. Максимальный балл за задание – 8.

1	Фараон	А	Сплав меди и олова
2	Бронза	Б	Усыпальница царей Египта и членов их семей
3	Шадуф	В	Наименование правителя Древнего Египта
4	Пирамида	Г	Приспособление для полива садов и огородов

Ответ:

1	2	3	4

Задание 5. Максимальный балл за задание-8.

1. Отметьте на «линии времени» 753 г. до н.э., 73 г. до н.э., 490 г. до н.э., 1147 г. н.э., 476 г. н.э., 1945 г. н.э.?

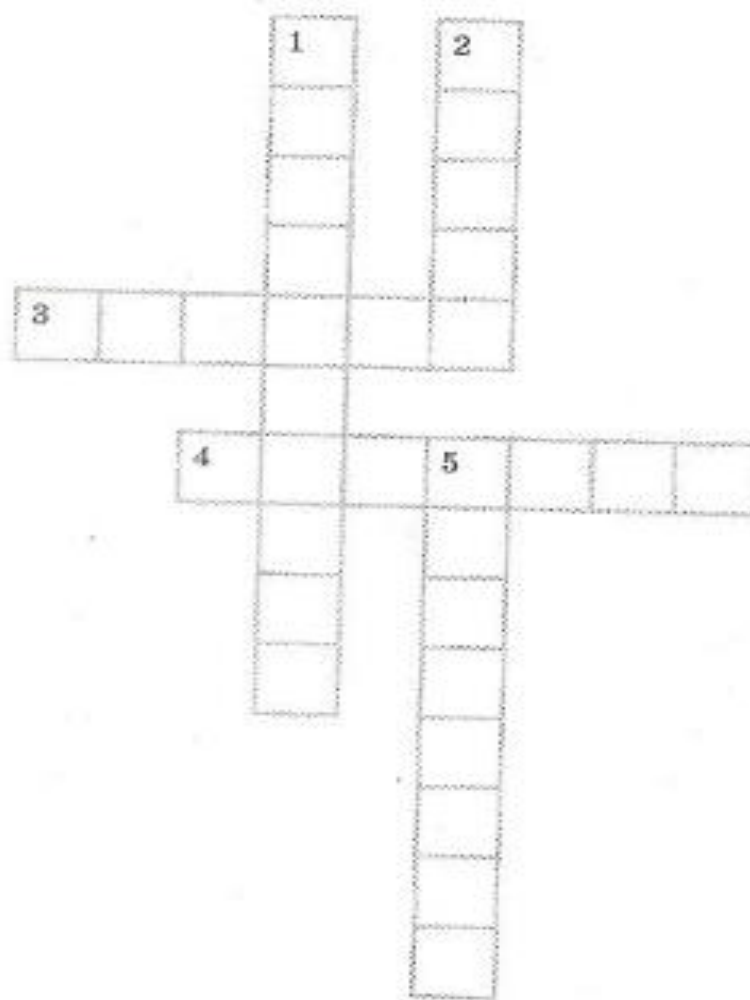
_____ / _____
До нашей эры / Наша эра

2. Город Омск был основан в 1716 году. Отметьте на «линии времени» этот год. Подсчитайте, сколько лет исполнилось Омску в 2023 году. Вычисления делайте письменно.

_____ / _____
До нашей эры / Наша эра 2023

Решение: _____

Задание 6. Разгадайте кроссворд. *Максимальный балл за задание — 10.*



1. Фараон, правивший в 14 в. до н.э., его гробница оказалась единственной не тронутой древними грабителями.
2. Фараон, правивший 2600 лет до н.э., прославившийся своей усыпальницей - самой высокой пирамидой.
3. Животное с телом льва и головой человека.
4. Тростник, из которого в Древнем Египте изготовлялся писчий материал.
5. Письменный знак, обозначающий отдельные слова, понятия или звуки.

ИСТОРИЯ
5 КЛАСС

Задание 7. Соотнесите имена египетских богов и их характеристики. Максимальный балл за задание — 10.

1	Богиня истины, справедливости и гармонии.	А	Амон
2	Покровитель земледелия, садоводства, а также царь загробного мира.	Б	Осирис
3	Бог мудрости и знаний.	В	Маат
4	Бог солнечного диска	Г	Сет
5	Бог Солнца и покровитель города Фивы.	Д	Тот
6	Бог песчаных бурь, хаоса и войны.	Е	Гор
7	Богиня любви, плодородия и женской красоты.	Ж	Апис
8	Священный бык, сын богини неба Нут.	З	Анубис
9	Покровитель земных фараонов	И	Атон
10	Проводник в умерших в царство мёртвых	К	Бастет

Соответствующие буквы ответов внеси в таблицу.

1	2	3	4	5	6	7	8	9	10

Задание 8. Максимальный балл за задание - 12.

Прочитайте отрывок из гимна богу, ответьте на вопросы.

«Ты сияешь прекрасно на небосклоне неба, живой солнечный диск, положивший начало жизни!...

Ты образовал землю по своему желанию, когда ты был один, с людьми, скотом и со всеми животными....

Ты создал Нил ..., и привел ты его по желанию твоему, чтобы дать жизнь подданным, подобно тому как ты их создал для себя, владыка их всех, страдающий из-за них, владыка каждой страны, восходящий ради них, солнечный диск дневной, большой величию.....»

1. Как звали бога, которому посвящен этот гимн?

2. При каком фараоне была проведена религиозная реформа?

3. В чем состояла суть этой реформы?


Задание 9. Максимальный балл за задание - 12.

Расположите ремесленные изделия в хронологическом порядке их появления.

- | | |
|--------------------------------|-----------------------------------|
| А. глиняная посуда | Д. бронзовые орудия труда |
| Б. литые медные орудия труда | Е. золотые и серебряные украшения |
| В. деревянная посуда | |
| Г. кованые медные орудия труда | |

1	2	3	4	5	6

Задание 10. Максимальный балл за задание- 15. На фотографиях изображены памятники архитектуры и скульптуры города Омска. Определите их название. Напишите год возведения каждого памятка.



**ИСТОРИЯ
5 КЛАСС**

Б)



Г)



Д)



Ответ:

- А. _____
- Б. _____
- В. _____
- Г. _____
- Д. _____