

Задания для обучающихся

Время выполнения заданий – 135 минут

Время выполнения заданий тестового тура 40 минут

Время выполнения заданий теоретического тура 90 минут

Максимальное количество баллов –100 баллов

Тестовый тур

(максимальное количество баллов - 20)

1. Какой единственный народ, проживающий в Европе, исповедует буддизм?

(1 балл)

- 1) буряты;
- 2) хакасы;
- 3) калмыки;
- 4) албанцы.

2. Выберите первый порт на Тихом океане. *(1 балл)*

- 1) Магадан;
- 2) Советская Гавань;
- 3) Находка;
- 4) Охотск.

3. Какой географический объект носит имя первопроходца Григория Шелихова? *(1 балл)*

- 1) море;
- 2) залив;
- 3) горный хребет;
- 4) мыс.

4. Какой из перечисленных городов России имеет наибольшую численность населения? *(1 балл)*

- 1) Казань;
- 2) Красноярск;
- 3) Омск;

4) Волгоград.

5. Какой фактор является главным при размещении алюминиевых заводов в Восточной Сибири? (1 балл)

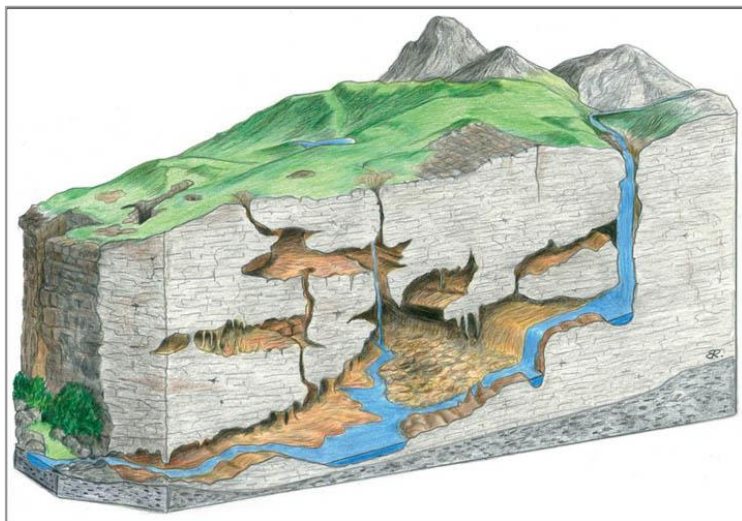
- 1) сырьевой;
- 2) водный;
- 3) потребительский;
- 4) энергетический.

6. В каком из перечисленных субъектов Российской Федерации административный центр является не самым крупным по численности населения городом в данном субъекте? (1 балл)

1. Амурская область;
2. Оренбургская область;
3. Кемеровская область;
4. Самарская область.

7. Какие формы рельефа изображены на рисунке? (1 балл)

- 1) Вулканические
- 2) Карстовые
- 3) Моренные
- 4) Эоловые



8. В пределах какого субъекта РФ добывается большая часть алмазов? (1 балл)
- 1) Иркутская область;
 - 2) Республика Бурятия;
 - 3) Чукотский автономный округ;
 - 4) Республика Якутия (Саха).
9. Что является главным сырьем при производстве пластмассовых изделий? (1 балл)
- 1) апатиты;
 - 2) нефть;
 - 3) горючие сланцы;
 - 4) асбест.
10. Какой из перечисленных городов имеет наибольшую абсолютную высоту? (1 балл)
- 1) Чита
 - 2) Воронеж
 - 3) Новосибирск
 - 4) Хабаровск
11. Какое из четырёх морей имеет наибольшую соленость воды? (1 балл)
- 1) Черное море;
 - 2) Японское море;
 - 3) Баренцево море ;
 - 4) Карское море.
12. Какой из перечисленных городов расположен ближе к экватору? (1 балл)
- 1) Иркутск;
 - 2) Хабаровск;
 - 3) Ставрополь;
 - 4) Ростов-на-Дону.
13. Установите соответствие между названиями электростанций, их типом и субъектом РФ, в котором они расположены (4 балла):

Название	Тип	Субъект
1. Паужетская	а) гидроэлектростанция	І. Иркутская область
2. Братская	б) атомная	ІІ. Чукотский авт. округ
3. Билибинская	в) тепловая	ІІІ. Свердловская область
4. Рефтинская	г) геотермальная	ІV. Камчатский край

14. Установите соответствие между реками России, их длиной, притоками и городами, расположенными на берегах рек (4 балла).

Река	Длина, км	Притоки	Города
1. Амур	а) 5410	А. Белая, Ветлуга	І. Салехард
2. Енисей	б) 4400	Б. Чулым, Томь	ІІ. Якутск
3. Обь	в) 3530	В. Зeya, Усури	ІІІ. Благовещенск
4. Лена	г) 3487	Г. Ангара, Нижняя Тунгуска	ІV. Чебоксары
5. Волга	д) 2824	Д. Олекма, Витим	V. Игарка

Теоретический тур

(максимальное количество баллов – 80)

Задание 1. (27 баллов)

Эта горная система расположена на самом большом континенте Земли, на территории нескольких государств, большая ее часть принадлежит самому большому по площади государству мира. Море, расположенное на западе от горной системы, соединено с крупнейшим межматериковым морем Земли двумя важными проливами и самым маленьким по площади морем мира. А река, берущая начало в этих горах, впадает в самое маленькое по глубине

море на планете. Эта горная система расположена на границе нашей страны с четырьмя странами мира, здесь же находится и высшая точка России. Горы входят в состав крупного горного пояса альпийской складчатости. Также к этой складчатости и поясу относятся горы, расположенные на полуострове, отделяемом от рассматриваемой горной системы небольшим проливом, через который построен мост, являющийся самым длинным в части света, в которой он расположен.

В этих горах располагается самый большой город-курорт нашей страны, в котором проходили зимние Олимпийские игры в 2014 году, а также здесь обитает очень редкий зверь семейства кошачьих, который был одним из олимпийских символов. Климат этих горных территорий позволяет выращивать здесь сельскохозяйственную культуру, в производстве которой наиболее известны Индия, Китай и островное государство в Индийском океане.



Определите:

- 1) название горной системы;
- 2) континент, самое большое по площади государство;
- 3) море на западе горной системы, межматериковое море, два пролива и самое маленькое по площади море Земли;
- 4) реку и самое мелкое море планеты;

- 5) четыре пограничных государства и их столицы;
- 6) высшую точку России и высоту;
- 7) название горного пояса;
- 8) полуостров, пролив;
- 9) город-курорт, редкого зверя семейства кошачьих;
- 10) сельскохозяйственную культуру, островное государство.

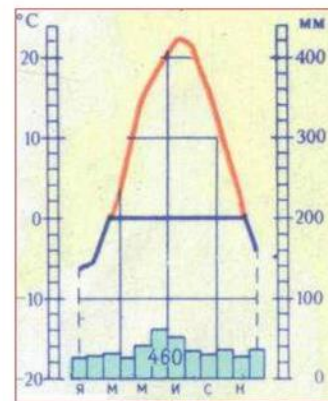
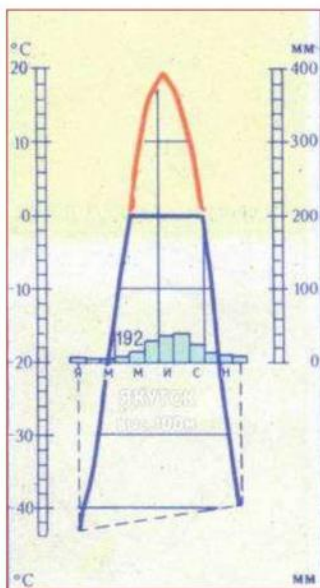
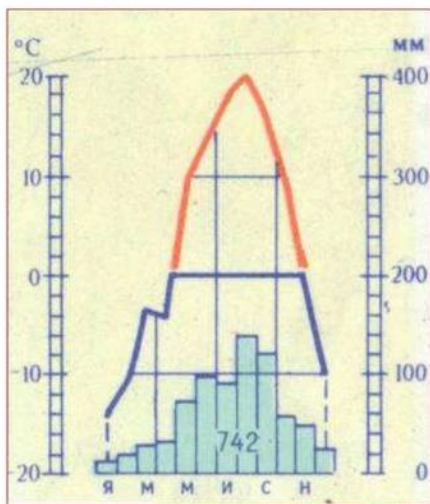
Задание 2. (8 баллов)

Определите, какая из климатограмм соответствует городам: Ростов-на-Дону, Якутск, Владивосток. Установите тип климата для каждой климатограммы и фактор, определяющий количество осадков для каждого пункта.

1

2

3



Задание 3. (24 балла)

Определите по контурам субъекты Российской Федерации, укажите их названия, для каждого субъекта подберите соответствующую картинку и напишите, что изображено на картинке.

1



2



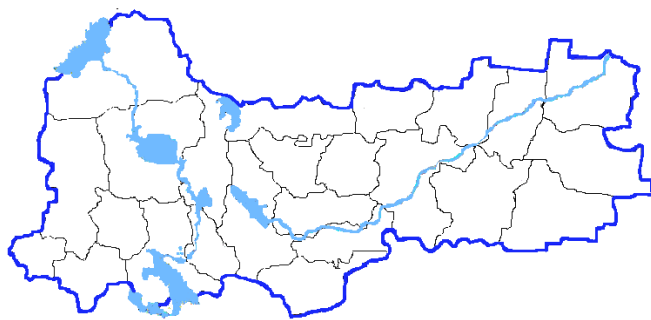
3



4



5



6



А



Б



В



Г



Д



Е



Задание 4. (15 баллов)

Одна из крупнейших по территории стран мира; современное население сформировалось в результате иммиграции; 90 % населения проживает в узкой полосе вдоль южной границы; многоотраслевая промышленность; одна из отраслей международной специализации - лесная и деревообрабатывающая промышленность.

1. Назовите страну.
2. Назовите ее столицу.
3. Объясните причины того, что лесная и деревообрабатывающая промышленность являются в этой стране отраслью международной специализации.
4. Объясните причины размещения населения в узкой полосе вдоль южной границы.

Задание 5. (15 баллов)

Пользуясь знаниями по географии, найдите ошибочный элемент в каждом логическом ряду. Обоснуйте своё исключение. Приведите название ещё одного объекта для продолжения логического ряда. Учтите, что все географические объекты должны характеризовать особенности географии. Ответы запишите в таблицу.

Пример: Приволжская – Прикаспийская – Среднерусская – Смоленско-Московская – Валдайская.

Ошибка в логическом ряду. Прикаспийская. (1 балл)

Обоснование исключения. Это низменность, а **ВСЕ** остальные объекты – это возвышенности на территории России. **(2 балла)**. Если Вы ответ дадите неполным, например, укажете, что это низменность, то жюри оценит Вас только **1 баллом**, т.к. остаётся непонятным, чем являются остальные объекты и есть ли между ними общий признак.

Ваш пример для продолжения логического ряда. Ваш ответ должен включать любую возвышенность России: Северные Увалы, Ставропольская возвышенность. Только тогда Вас оценят максимально высоко **(1 балл)**. Если Вы назовёте возвышенности за пределами России или другие положительные формы рельефа, например, плоскогорья, то Ваш ответ оценят в 0 баллов.

- 1) Кызыл – Якутск – Сыктывкар – Чебоксары – Абакан;
- 2) Среднерусская возвышенность – Смоленско-Московская возвышенность –
Общий Сырт – Северные Увалы – Приволжская возвышенность;
- 3) Аварцы – лезгины – кумыки – ногайцы – черкесы;
- 4) Пермский край – Самарская область – Челябинская область – Оренбургская
область – Ханты-Мансийский автономный округ;
- 5) Мыс Пиай – мыс Фроуард – мыс Игольный – мыс Марокки – мыс Марьято.